

令和7年度
入学試験問題

第3回
社 会

- 1 問題用紙は指示があるまでは開いてはいけません。
- 2 開始のチャイムが鳴ったら、最初に問題用紙と解答用紙に受験番号と氏名を記入して下さい。
- 3 答えはすべて解答用紙に記入して下さい。
- 4 解答は特に指定のないかぎり、漢字・ひらがなのどちらでもかまいません。
- 5 問題は1ページから11ページまであります。

受 験 番 号		氏 名	
------------------	--	------------	--

森村学園中等部

1

以下の①から⑤の文章は、「日記」の歴史に関する文章です。文章を読み、問いに答えなさい。なお、**日記A**～**日記D**の文には作問の都合上一部変更を加えた部分があります。

- ① 以下の**日記A**は、天皇が幼い皇子に位を譲ることで一部の貴族に独占されていた政治の実権を取り戻そうとした時代に、都の有力貴族によって書かれた。

日記A 伝え聞くところでは、朝廷に対する反逆者の息子が、数年来追放先の伊豆国にいた。ところが、この息子が近頃凶悪となり、新しく伊豆国に赴任する国司が派遣した使者をふみにじり、伊豆国・駿河国のほぼ全域を支配下に入れてしまったという。

※「伊豆国・駿河国」：どちらも現在の静岡県にあたる地域

- ② 死去した天皇の子とその天皇の弟との間で大規模な内乱が発生し、弟が勝利して新しい天皇に即位したこの時代、天皇の権威が高まって国のしくみも整い始め、日本最初の貨幣が作られた。この頃、伊吉博徳という外交官が中国への外交使節に同行した際に書き残した記録が現在日本最古の日記とみなされている。この記録では原則として「日本」という国号は用いられず、「倭」や「大倭」という表記が使われた。
- ③ 国家が国中の土地と人々を支配する原則が崩れ、天皇との婚姻関係を築いた貴族が大きな力を持つようになったこの時代、朝廷で働く貴族の中には、毎日「暦」に重要な出来事を書き込んで、後から見返して確認できるようにする者もいた。貴族にとって日記をつけることは毎日の仕事や儀式をスムーズに進めるために必要な作業とみなされており、貴族たちは子どもの頃からわかりやすい日記をつけるための訓練を積んでいた。
- ④ 以下の**日記B**は、軍部が台頭して政治への影響力を増し、議会制民主主義が軽視されるようになった時代に、ある外交評論家によって書かれた。

日記B 昨日は（出題者注：当時進行していた）戦争記念日だった。ラジオは朝の大蔵大臣の放送から始まったが、感情的に叫びわめくようだった。夕方のラジオは自分は聞かなかったが、【 X 】は鬼で【 Y 】は悪魔でといった放送で、家の者も途中でラジオを切ったそうだ。日本はこんな風に感情に訴えなければ戦争も満足に出来ないのだろうか。

- ⑤ 日本政府が不平等条約撤廃^{てつぱい}のための外交交渉を進め、さらに西洋の制度や文化を急速に取り入れるようになったこの時代、官民を問わず多くの日本人が視察・留学のため欧米諸国を訪れた。以下の「日記C」は、ある人物がイギリス留学中に書きのこしたものである。

日記C ロンドンの街を散歩しているときにタンを吐くと、真っ黒なかたまりが出ておどろくことだろう。何百万人の市民が暮らしているが、毎日けむりやススを吸うことで彼らの肺は黒く染められていく。私も鼻をかんだりタンを吐いたりするたびにとても気味が悪くなる。

問1 ①から⑤はそれぞれ何時代の出来事ですか。次の中から選び、記号で答えなさい。

- ア. 旧石器時代 イ. 縄文時代 ウ. 弥生時代 エ. 古墳・飛鳥時代
オ. 奈良時代 カ. 平安時代（院政期を除く） キ. 院政期・鎌倉時代
ク. 室町時代（南北朝時代を含む）・戦国時代 ケ. 安土桃山時代
コ. 江戸時代 サ. 明治時代 シ. 大正時代
ス. 昭和前期（第二次世界大戦敗戦まで） セ. 昭和後期（第二次世界大戦敗戦後）

問2 ①の下線部について、実際に「反逆者の息子」が挙兵した段階では、まだ伊豆国・駿河国は「息子」の支配下に入っていませんでした。しかし、「息子」は後に関東の武士たちを次々と味方につけ、最終的に關東南部に幕府を開きます。この「反逆者の息子」とは誰ですか。人名を答えなさい。

問3 ②の下線部について、この使節は後にある貴族の提言をきっかけに廃止されるまで、合計十数回派遣されました。この外交使節を何と呼びますか。使節の名前を漢字で答えなさい。

問4 ③の下線部について、「幼い天皇に代わって政治の指揮をとる」役職を何と呼びますか。役職の名前を答えなさい。

問5 「日記B」の空らん【 X 】・【 Y 】には、どちらも「日記B」文中の「」戦争で日本が戦った国の名前が入ります。正しい組み合わせはどれですか。次の中から1つ選び、記号で答えなさい。

- ア. X：ドイツ Y：ソ連 イ. X：中国 Y：韓国
ウ. X：アメリカ Y：イギリス エ. X：オランダ Y：ポルトガル

問6 「日記C」を書いた人物は、帰国後は小説家として有名になり、『坊ちゃん』・『こころ』といった作品を書きました。この人物は誰ですか。次の中から1つ選び、記号で答えなさい。

- ア. 森鷗外 イ. 夏目漱石 ウ. 樋口一葉 エ. 石川啄木

問7 「史料（歴史研究を進める材料）」として見た場合、条文のような政府などが発した「公式文書」は正確で信頼性が高いものだと思なされます。しかし、近年の歴史学では個人が残した「日記」にも高い史料的な価値を見出すようになってきました。以下の条文は1871年（明治4年）に明治政府によって制定された法令の一部を示しています。一方、日記Dは1923年に井藤正一という若者が書いた日記の内容を示しています。

井藤は徳島県で「えた」「ひにん」などと呼ばれた人々への差別をなくすための運動を進めた人物で井藤自身もそのような差別の対象とされた集落に生まれました。日記Dは、井藤の住む集落に差別撤廃のための話し合いを行う集会所が建設された日に書かれたものです。

日記にも注目して歴史研究を進めることは、公式文書だけを手がかりにする時と比べてどのような利点があると考えられますか。条文と日記Dを比較しながらわかりやすく説明しなさい。

条文

だじょうかん
太政官布告 第六百八（1870年9月19日布告）

「平民が苗字を名乗ることを可能とする」

太政官布告 第四百三十七（1871年8月23日布告）

かぞく
「華族・士族・平民の異なる身分同士でも結婚は全て可能とする」

太政官布告 第四百四十八（1871年8月28日布告）

めいしょう はいし
「えた・ひにんなどの身分の名称は廃止し、身分職業とも平民と同様とする」

日記D

（1923年）4月28日の集会所完成に対して思っていることを述べたい。

……実に今日という日は我々にとってめでたい日だが、悲しい日でもあるのです。……近頃差別はなくすべきだという声^{さか}が盛んに上がる世の中ですが、差別とは何でしょうか。明治維新によって、人々は平等の政策の下で同じ権利を有する時代になったはずでした。そんな時代でも「差別撤廃のための集会所を作ろう」という声^{さか}がさかんに発せられること自体が、かえって私たちへの差別が根強いことを示しています。……諸君、はたしてこの社会が平等なものと言えるでしょうか。封建時代の専制政治の下で差別が当たり前だった時代ならともかく、20世紀の今を生きている我々は、このような社会に対して怒り^{いか}が湧き上がるのを抑えられ^{おさ}ません。……

2

以下の文章を読み、問いに答えなさい。

日本では①火力発電や水力発電、②原子力発電などの様々な発電方法を組み合わせて発電しています。近年、日本国内の市町村別再生可能エネルギーの供給状態を把握する研究が進み、研究機関によってその報告書が公表されています。2024年6月に発表された報告書によると、2022年の地域的エネルギー自給率（地域の再生可能エネルギー供給が民生・農林水産業用エネルギー需要に占める割合）の都道府県別ランキングで秋田県が4年連続で1位となりました。1位から5位までの順位は以下の通りです。

地域的エネルギー自給率の都道府県別ランキング

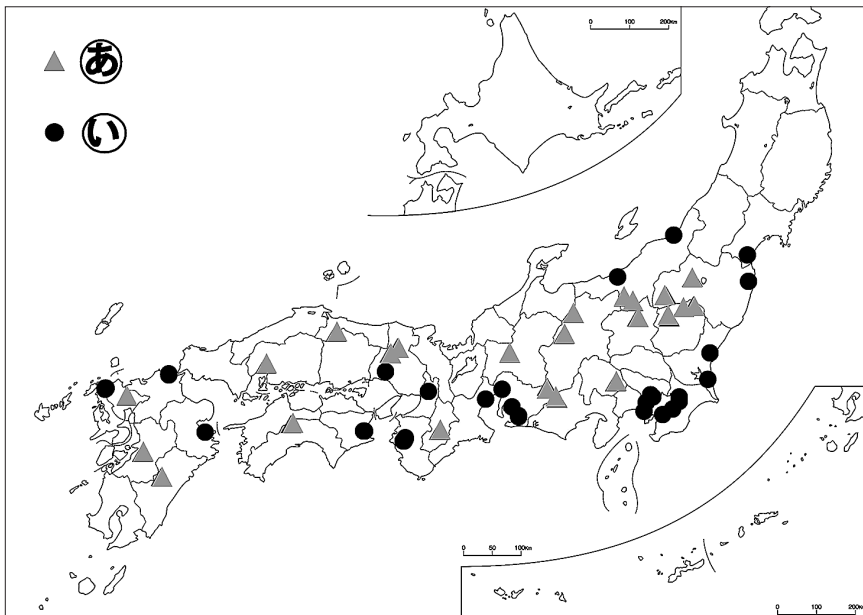
1位 秋田県	58.3%	2位 大分県	55.6%	3位 群馬県	51.8%
4位 鹿児島県	51.2%	5位 福島県	48.7%		

(出典：永続地帯2023年度版報告書)

また、この報告書では「その区域におけるエネルギー需要と食料需要の全てをまかなうことができる区域」のことを③「永続地帯」と表現しています。2022年では永続地帯である市町村が10加わり、116市町村となっています。再生可能エネルギーの供給割合を高めている市町村が増加している傾向にあります。

問1 下線部①について、【地図】中の㉠・㉡は、主な水力発電所と火力発電所の所在地のいずれかを示しています。また、説明A～Cはそれぞれの発電所の立地の特徴を示しています。**火力発電所**の所在地と立地の特徴の正しい組み合わせはどれですか。ア～カの中より1つ選び、記号で答えなさい。

【地図】



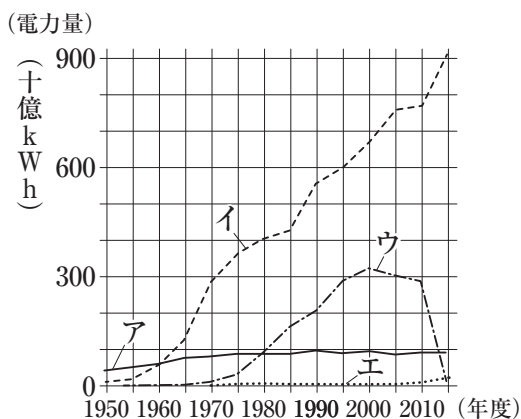
- A 火山活動の活発な地域
- B 大都市がある平野部
- C 山が多い地域

※火力発電所は200万kW以上 水力発電所は50万kW以上 (電気事業便覧2020などより作成)

- ア. ㉠ - A イ. ㉠ - B ウ. ㉠ - C
- エ. ㉡ - A オ. ㉡ - B カ. ㉡ - C

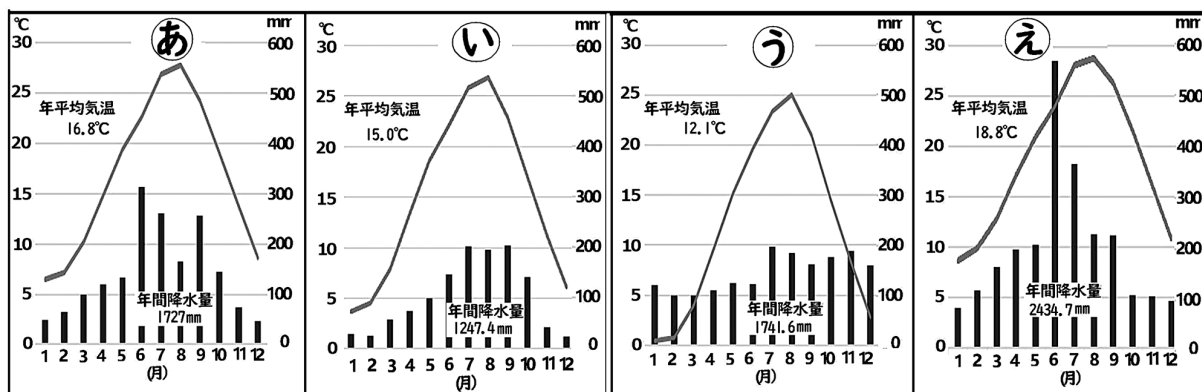
問2 下線部②について、次の【グラフ】は日本の発電電力量推移を示しています。原子力発電による電力量の推移を示しているグラフはどれですか。グラフ中のア～エの中より1つ選び、記号で答えなさい。

【グラフ】



(「数字でみる日本の100年改訂第7版」より作成)

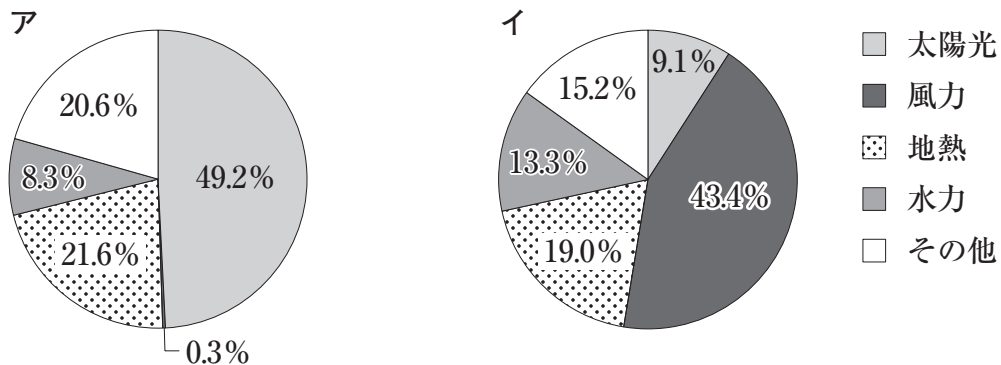
問3 次に示す雨温図①～④は、上述した地域的エネルギー自給率のランキング第1位から第4位までの都道府県の県庁所在地のものです。秋田県と鹿児島県の正しい組み合わせはどれですか。次の中から1つ選び、記号で答えなさい。



(気象庁データより作成)

- | | | | |
|-----------|--------|-----------|--------|
| ア. ①：鹿児島県 | ②：秋田県 | イ. ③：鹿児島県 | ④：秋田県 |
| ウ. ④：秋田県 | ①：鹿児島県 | エ. ②：秋田県 | ④：鹿児島県 |

問4 次に示す円グラフ、ア・イは、地域的エネルギー自給率1位の秋田県と2位の大分県の再生可能エネルギー供給の内訳を示しています。円グラフ、ア・イのうち、大分県はどちらですか、記号で答えなさい。また、その理由を下の表を参考にして答えなさい。



(「永続地帯2023年度版報告書」より作成)

都道府県名	秋田県	大分県
面積	6位 (1万1,638km ²)	22位 (6,341km ²)
日照時間 (2022年)	46位 (1654時間)	25位 (2069時間)
源泉 (温泉) 総数 (2022年度)	11位 (全体比2.2%)	1位 (全体比18.2%)

国土地理院 令和5年全国都道府県市区町村別面積調 (1月1日時点)【令和5年3月23日公表分】、
総務省『日本統計年鑑』、環境省『令和4年度温泉利用状況』より作成

問5 下線部③について、このような地域を「永続地帯」と表現するのはなぜだとあなたは考えますか。説明しなさい。

3

以下の文章を読み、問いに答えなさい。

古代ギリシアの哲学者であるプラトンは著書の『国家』において、「国事に乗り出して政治活動をするものが、どのような仕事や生き方をしてきた人であろうと、そんなことは一向に気にもとどめられず、ただ大衆に好意を持っていると言さえすれば、それだけで尊敬される」と述べ、民主制を批判した。

今日の私たちが、選挙において誰に投票するかを決める基準はどこにあるのだろうか。というのも、昨今の国内の選挙では、選挙をエンターテインメントの場として利用する候補者が少なくない。また、国民もそのような「おふざけ」の候補者に票を入れることさえある。私たちは、民主政治における選挙の意味をしっかりと理解した上で選挙に臨むことができているだろうか。

また、①選挙は国民が政治に参加する第一歩であって、ゴールではない。選挙で代表者を選んだあとは、代表者に「お任せ」でいいのだろうか。今日では、任せる相手は「人間」とは限らなくもなってきた。昨年8月、イギリスの議会議員選挙にAIの議員が立候補した。その名も「AIスティーブ」である。24時間どこからでも国民の意見や質問に応答できる。集まったデータを分析し、②最も国民の声に近く、国民の利益になるような政策を立案し、政治を行うことができるという。③AIは政治だけでなく、裁判や法律の制定も行うことが可能であり、国民はスマホの画面の前で、AIが運営するチャットに意見を送るだけでいい。あとは「お任せ」しておけば、自分の意見が反映された社会がつくられていくことになるかもしれない。しかし、④民主政治において、AIに限らず、代表者に国民が「お任せ」することにはさまざまな問題があるだろう。冒頭で引用したプラトンは同じ『国家』において、民主政治においてもたらされる個人個人が思い通りにふるまうことのできる「自由」は、「放任」をもたらし、その「自由放任」が自らを奴隷に導くことになるとも述べている。

問1 下線部①について、選挙時に政党や候補者が掲げる約束を何と呼びますか。漢字2字で答えなさい。

問2 下線部②について、今日の政治制度においては国民の意思を政策に反映させるために「間接民主制」と呼ばれる仕組みが取られています。この仕組みの説明としてふさわしいものはどれですか。次の中から1つ選び、記号で答えなさい。

- ア. この仕組みでは、国民全員がいっせいに集まって議論するため、国民全員の意思を政策に反映させるまでに時間がかかる。
- イ. この仕組みでは、政治に参加する代表者は、政治以外の副業をして生計を補うことが認められており、代表者は安心して政治に専念できる。
- ウ. この仕組みでは、国民が直接政治に参加するのではなく、税金を多く払っている者がおおまかな政策内容を決めて、国民全員がその政策を承認する仕組みとなっている。
- エ. この仕組みでは、国民が直接政治に参加するのではなく、国民が選んだ代表者が組織する議会を通じて、国民の意思を政治に反映させる。

問3 下線部③について、法律の制定について、実際法律が制定されるまでには多くの手続き過程を経ています。法律が制定されるまでの流れとして正しいものはどれですか。次の中から1つ選び、記号で答えなさい。

- ア. 内閣、国会議員が法律を立案 → 衆議院で可決 → 参議院で可決 → 公布
イ. 内閣、国会議員が法律を立案 → 参議院で可決 → 公聴会こうちゅうかいで可決 → 公布
ウ. 司法、国会議員が法律を立案 → 衆議院で可決 → 参議院で可決 → 公布
エ. 司法、内閣総理大臣が法律を立案 → 参議院で可決 → 公聴会で可決 → 公布

問4 下線部④について、民主政治において国民が代表者に「お任せ」することの問題点を具体例を挙げて説明しなさい。

4

以下の言葉の中で、ある見方でみると一つだけ性格の異なるものがあります。それはどれですか。記号で答えなさい。また、それ以外の言葉に共通する性格は何ですか。説明しなさい。

例題 [ア. 縄文 イ. 奈良 ウ. 鎌倉 エ. 横浜]

解答例

ア	他はすべて都市の名前
---	------------

(1) ア. 日清戦争 イ. 日露戦争 ウ. 西南戦争 エ. 日中戦争

(2) ア. 藍あい イ. 綿糸 ウ. 麻あさ エ. 羊毛

5

以下の問いに答えなさい。

問1 昨年夏に宮崎県沖であった地震じしんをきっかけに初めて、()地震臨時情報きょだいい(巨大地震注意)が気象庁から出されました。これはこの地震が、近年心配されている広域大地震に関連した地震かもしれないと疑われたからです。()地震は西日本・東海地方に大きな被害ひがいをもたらすといわれています。()にあてはまる言葉は何ですか。答えなさい。

問2 昨年9月、ポケベルに仕掛けられた爆弾ぼくだんによる被害に対する報復をイスラエルに対して行ったことで、逆にイスラエルから大規模な空爆くうばく、それに続く地上侵攻しんこうを受けたヒズボラが拠点きょてんにする国の名前は何ですか。国名を答えなさい。

6

以下の会話を読み、問いに答えなさい。なお、文中の森村さんの発言を「森」、お母さんの発言を「母」、お父さんの発言を「父」と表記します。

森：最近のニュースで①沖縄県の南西諸島に自衛隊駐屯地が建設されたと聞いたよ。防衛施設の建設が進んでいるね。防衛施設の建設を県民はどう考えているの？

母：じゃあ、身近な例から考えていこうか。学校の校則で不満に思うものはある？

森：私はある！学校で漫画を読みたい！発売日にすぐ読みたいのに！

父：何言ってるんだ。その学校に入学したと言うことはその学校の校則を守る義務があると思うんだ。だって決められたルールを守ることで、学べることも沢山あるだろう？

母：もちろん校則には「学業に専念させる」とか「風紀の乱れを防止する」とか、目的が明確なものも多い。でも最近、②ブラック校則が話題になったね。「コートの着用禁止」や「下着の色は白限定」というような目的があいまいな校則も存在していたから、見直しの動きが広がっているんだよ。生徒が校則を変える動きも出てきているの。

森：え！私たち生徒が学校のルールを決めるの？

父：社会に出ていない生徒が校則を決めるとなると自分たちの好きなようにルールを変えてしまう危険性があるよな。それで学校が荒れるかもしれないと思うと、かなりリスクがあるね。

母：そういう不安もあるね。でも学校で色々なことを学ぶことができる絶好のチャンスになるかもしれないんだよ。学校のルールを決める話し合いへの参加を通じて、生徒が民主主義の在り方を学び、実践する場になるよね。私たちが意見を言うことで生活を良い方向に変えることができるという成功体験になる可能性がある。だから、単に校則を先生と生徒で見直そうという活動なのではないんだ。

森：なんだか、似たような話があったな。この前の社会の授業で「地方自治は民主主義の学校」という言葉を習ったよ。

父：いい言葉を知っているね。お母さんが話していた校則の話を参考にすると、③ という意味がその言葉にはあるね。地方自治には住民が地域の政治・政策に参加する仕組みが沢山あって、国から独立した地方公共団体が住民と協力して、公共的な事務・事業を担うことが求められているんだよ。一言でいうと、「自分たちの地域のことは自分たちで決める権利」ということができるね。

母：そう。そして、「自分たちの地域のことは自分たちで決める権利」が損なわれているのではないかといわれているのが沖縄県なんだよ。米軍専用施設は、日本にあるもののうち、その面積の約70%が沖縄に集中していて、騒音問題や基地建設、燃料による環境破壊などが問題になっている。そして、もう一つの大きな問題が「沖縄が近い将来、軍事的な紛争に巻き込まれるのではないか」という問題だ。県民の73.5%の人々が、この質問に対して、「巻き込まれる」と答えているんだよ（上智大学ジャーナリズム研究所，2023）。

森：沖縄が軍事的な紛争に巻き込まれる？ どことどの争いに巻き込まれる可能性があるの？

父：今、中国とアメリカが対立を深めているね。この2か国が台湾を理由に戦争を始める台湾有事が懸念されている。その時、アメリカは中国に近い在日アメリカ軍基地から軍を派遣す

ることが考えられるよね。だから、沖縄の南西諸島に自衛隊駐屯地や長射程ミサイル、^{だんやく}弾薬庫が配備され、アメリカ軍に自衛隊が協力することが求められているんだよ。

森：ミサイル配備ということは沖縄から他国に向けて攻撃が可能ってこと？

母：その通りなんだ。だから意見が分かれるのよ。沖縄に他国の船や航空機を攻撃できる設備を置くということは、その分、攻撃される危険性も高まる。だから、住民が危機意識をもち、^{いしがきし}石垣市を駐屯地の予定候補地とすることの賛否を問う住民投票条例の制定を求める署名が14263人分、提出されたんだ。これは、石垣市の有権者の37%にあたる。元々、石垣市では④有権者の4分の1以上の署名をもって、市長に対して住民投票に関する条例の請求ができるとされていて、他の地域よりもハードルが高いものになっていたの。それでもその数を超える署名があったのにもかかわらず、議会で住民投票が否決されてしまって、住民投票も実施されない状態が続いているの。

森：沖縄が他国から攻撃されてしまう可能性は他の地域よりも高いのかな……。⑤沖縄戦の時も、他の県と比較して沖縄は住民の被害が多かったよね。それなのに、沖縄が戦争にまきこまれてしまうことを住民がおそれても、住民投票が実施されないということは自治体に対して意見を表明する機会がないってことだよ……。⑤

父：でも、安全保障について1つの地方自治体の住民投票で決めることは問題があるんじゃないかと私は考えるなあ。沖縄の基地問題に関しては、住民投票実施で住民が是非を決めるのではなくて、⑥国が一貫して判断するべきではないだろうか。

母：自衛隊基地も米軍基地も存在しなかった石垣市に、自衛隊の施設が配備されるという事実は、市民生活にも市の政治にも重大な影響を及ぼす事柄だよ。その事柄に関して、⑦自分たちの地域のことなのに意見を言う機会も与えられないと言うことは危険だと思うの。住民投票で基地をなくすかどうか完全に決まるわけではないけれど、お互いの意見を尊重しながら、島内での正解を探るきっかけにもなるのではないかな。その機会さえ今はないし、住民の意見が反映されていないという現状が沖縄にはあるんだよ。

森：まさか校則の話からこういう風に広がるとは。まずは漫画を学校に持ってきてはいけない理由を先生と話してみようかなあ。

問1 下線部①について、南西諸島の1つで日本最西端の島は何ですか。島の名前を答えなさい。

問2 下線部②について、一般的に校則の原型といわれるのは、1872年に当時の文部省が出した「小学生徒心得」です。その年に発布された教育制度を何と言いますか。制度の名前を答えなさい。

問3 空らん について、当てはまる文を答えなさい。

問4 下線部④について、地方自治の直接請求のしくみでは、条例制定の請求に必要な署名は、有権者の何分の何以上ですか。当てはまる数字を答えなさい。

問5 下線部⑤について、アジア・太平洋戦争における沖縄戦では、特に多くの一般市民が犠牲になりました。沖縄戦ではなぜ一般市民の犠牲が増えたのですか。説明しなさい。

問6 下線部⑥について、なぜ国が一貫して判断するべきと言われるのですか。考えられる理由を説明しなさい。

問7 下線部⑦について、自分たちの地域のことを決められないことの危険性とは何ですか。石垣市の現状をふまえて説明しなさい。

